

ജില്ലയുടെ പേര് : തിരുവനന്തപുരം
 ബി.ആർ.സിയുടെ പേര് : യുആർസി സൗത്ത്

സ്റ്റാൻഡേർഡ്	: 4
വിഷയം	: ഗണിതം
യൂണിറ്റ്	: 4
പാഠം	: കൂടുതലും കുറവും
വർക്ക് ഷീറ്റ് നമ്പർ	: 1


വൈറ്റ് ബോർഡ് ഷീറ്റ്

ആരംഭം

എണ്ണിനോക്കാം കണ്ടെത്താം ?



പുമ്പാറ്റകളുടെ എണ്ണം? ?



ജില്ലയുടെ പേര് : തിരുവനന്തപുരം
 ബി.ആർ.സിയുടെ പേര് : യുആർസി സൗത്ത്

സ്റ്റാൻഡേർഡ്	: 4
വിഷയം	: ഗണിതം
യൂണിറ്റ്	: 4
പാഠം	: കൂടുതലും കുറവും
വർക്ക് ഷീറ്റ് നമ്പർ	: 2

വൈറ്റ് ബോർഡ് ഷീറ്റ്

തുടർച്ച

എണ്ണിനോക്കാം കണ്ടെത്താം ?



സൂര്യകാന്തി പൂക്കളുടെ എണ്ണം



ജില്ലയുടെ പേര് : തിരുവനന്തപുരം
 ബി.ആർ.സിയുടെ പേര് : യുആർസി സൗത്ത്

സ്റ്റാൻഡേർഡ്	: 4
വിഷയം	: ഗണിതം
യൂണിറ്റ്	: 4
പാഠം	: കുടുംബവും കുറവും
വർക്ക് ഷീറ്റ് നമ്പർ	: 3

വൈറ്റ് ബോർഡ് ഷീറ്റ്

തുടർച്ച

എണ്ണിനോക്കാം കണ്ടെത്താം ?



റോസുകളുടെ എണ്ണം



ജില്ലയുടെ പേര് : തിരുവനന്തപുരം
 ബി.ആർ.സിയുടെ പേര് : യുആർസി സൗത്ത്

സ്റ്റാൻഡേർഡ്	: 4
വിഷയം	: ഗണിതം
യൂണിറ്റ്	: 4
പാഠം	: കൂടുതലും കുറവും
വർക്ക് ഷീറ്റ് നമ്പർ	: 4


വൈറ്റ് ബോർഡ് ഷീറ്റ്

തുടർച്ച

എണ്ണിനോക്കാം കണ്ടെത്താം ?



പുമ്പാറ്റകളെക്കാൾ എത്രകുറവാണ് സൂര്യകാന്തി പൂക്കൾ



ജില്ലയുടെ പേര് : തിരുവനന്തപുരം
 ബി.ആർ.സിയുടെ പേര് : യുആർസി സൗത്ത്

സ്റ്റാൻഡേർഡ്	: 4
വിഷയം	: ഗണിതം
യൂണിറ്റ്	: 4
പാഠം	: കൂടുതലും കുറവും
വർക്ക് ഷീറ്റ് നമ്പർ	: 5

വൈറ്റ് ബോർഡ് ഷീറ്റ്

തുടർച്ച

എണ്ണിനോക്കാം കണ്ടെത്താം ?



ആകെ പൂക്കളുടെ എണ്ണം



ജില്ലയുടെ പേര് : തിരുവനന്തപുരം
 ബി.ആർ.സിയുടെ പേര് : യുആർസി സൗത്ത്

സ്റ്റാൻഡേർഡ്	:	4
വിഷയം	:	ഗണിതം
യൂണിറ്റ്	:	4
പാഠം	:	കൂടുതലും കുറവും
വർക്ക് ഷീറ്റ് നമ്പർ	:	6

വൈറ്റ് ബോർഡ് ഷീറ്റ്


തുടർച്ച

വരച്ചു ചേർക്കുക

3
7
5
6
4

-
-
-
-
-

അഞ്ച്
ഏഴ്
നാല്
ഏഴ്
ആറ്



ജില്ലയുടെ പേര് : തിരുവനന്തപുരം
 ബി.ആർ.സിയുടെ പേര് : യുആർസി സൗത്ത്

സ്റ്റാൻഡേർഡ്	: 4
വിഷയം	: ഗണിതം
യൂണിറ്റ്	: 4
പാഠം	: കൂടുതലും കുറവും
വർക്ക് ഷീറ്റ് നമ്പർ	: 7


വൈറ്റ് ബോർഡ് ഷീറ്റ്


തുടർച്ച

പത്തുകളും ഒന്നുകളും

നിങ്ങൾക്ക് ഇഷ്ടമുള്ള ഒരു പലഹാരം ഇവിടെയുണ്ട്. പത്തുകളും ഒന്നുകളും ചേർന്നുവരുന്ന സംഖ്യകൾ കണ്ടെത്തൂ. ആ സംഖ്യകൾ എഴുതിയ കളങ്ങളിൽ നിറം നൽകി പലഹാരം കണ്ടെത്തൂ.

YELLOW	10+4	
PINK	10+6	
GREEN	10+7	
PINK	10+10+5	
YELLOW	10+10+9	
PINK	10+10+10+3	
GREEN	10+10+10+8	





ജില്ലയുടെ പേര് : തിരുവനന്തപുരം
ബി.ആർ.സിയുടെ പേര് : യുആർസി സൗത്ത്

സ്റ്റാൻഡേർഡ് : 4
വിഷയം : ഗണിതം
യൂണിറ്റ് : 4
പാഠം : കൂടുതലും കുറവും
വർക്ക് ഷീറ്റ് നമ്പർ : 8


വൈറ്റ് ബോർഡ് ഷീറ്റ്


തുടർച്ച

ക്രിസ്മസ് ട്രീ

വശത്തായി നൽകിയിരിക്കുന്ന ക്രിയകളുടെ ഉത്തരം കണ്ടെത്തൂ. ഉത്തരമായി വരുന്ന സംഖ്യകൾ എഴുതിയ കളങ്ങൾ നിറം നൽകുക.

9 - 7	
7 - 2	
9 - 5	
6 - 3	
8 - 2	





ജില്ലയുടെ പേര് : തിരുവനന്തപുരം
ബി.ആർ.സിയുടെ പേര് : യുആർസി സൗത്ത്

സ്റ്റാൻഡേർഡ്	: 4
വിഷയം	: ഗണിതം
യൂണിറ്റ്	: 4
പാഠം	: കൂടുതലും കുറവും
വർക്ക് ഷീറ്റ് നമ്പർ	: 10

വൈറ്റ് ബോർഡ് ഷീറ്റ്


തുടർച്ച

പുമല സ്കൂളിൽ എൽ.പി, യു.പി ഹൈസ്കൂളുകൾ വിഭാഗങ്ങളിലായി 3075 കുട്ടികൾ ഉണ്ട്.

എൽ.പി. വിഭാഗത്തിൽ 819 കുട്ടികളും, ഹൈസ്കൂൾ വിഭാഗത്തിൽ 919 കുട്ടികളും ഉണ്ടെങ്കിൽ യു.പി.വിഭാഗത്തിൽ എത്രകുട്ടികൾ ഉണ്ട്?

യു.പി.യിൽ എൽ.പി. വിഭാഗത്തേക്കാൾ എത്രകുട്ടികൾ ഉണ്ട്?

എൽ.പി. വിഭാഗത്തിലുള്ള കുട്ടികളേക്കാൾ യു.പി.വിഭാഗത്തിൽ എത്ര കുട്ടികൾ കൂടുതലാണ്?



ജില്ലയുടെ പേര് : തിരുവനന്തപുരം
ബി.ആർ.സിയുടെ പേര് : യുആർസി സൗത്ത്

സ്റ്റാൻഡേർഡ്	: 4
വിഷയം	: ഗണിതം
യൂണിറ്റ്	: 4
പാഠം	: കുടുതലും കുറവും
വർക്ക് ഷീറ്റ് നമ്പർ	: 9

വൈറ്റ് ബോർഡ് ഷീറ്റ്

തുടർച്ച

പച്ചക്കറി കൃഷി

വിനോദിന്റെ വീട്ടിൽ പച്ചക്കറി കൃഷി ചെയ്ത വിൽക്കാൻ തുടങ്ങിയിട്ട് കുറച്ചു മാസങ്ങൾ മാത്രമേ ആയിട്ടുള്ളൂ. മാർച്ച് മാസത്തിൽ പച്ചക്കറികൾ 2500 രൂപയ്ക്ക് വിറ്റു. ഏപ്രിലിൽ 3000 രൂപയ്ക്കും, മെയ് മാസത്തിൽ 3500 രൂപയ്ക്കും വിറ്റു. എങ്കിൽ 3 മാസവും കൂടി ആകെ എത്ര രൂപ കിട്ടി?

മാർച്ച് മാസത്തെക്കാൾ ഏപ്രിലിൽ എത്ര രൂപ കിട്ടി?

$3000 - 2500 =$

ഏപ്രിൽ മാസത്തെക്കാൾ മെയ് മാസത്തിൽ എത്ര രൂപ കൂടുതൽ കിട്ടി?

$3500 - 3000 =$

മാർച്ച് മാസത്തിലും മെയ് മാസത്തിലും നടന്ന കച്ചവടത്തിലെ വ്യത്യാസം ?

$3500 - 2500 =$



ജില്ലയുടെ പേര് : തിരുവനന്തപുരം
 ബി.ആർ.സിയുടെ പേര് : യുആർസി സൗത്ത്

സ്റ്റാൻഡേർഡ്	: 4
വിഷയം	: ഗണിതം
യൂണിറ്റ്	: 4
പാഠം	: കൂടുതലും കുറവും
വർക്ക് ഷീറ്റ് നമ്പർ	: 11

വൈറ്റ് ബോർഡ് ഷീറ്റ്

തുടർച്ച

എത്ര കുട്ടികൾ ?

പൂമല സ്കൂളിൽ കഴിഞ്ഞവർഷം 1500 കുട്ടികൾ ഉണ്ടായിരുന്നു. അവരിൽ 100 പേർ സ്കൂളിൽ നിന്നും പഠനം പൂർത്തിയാക്കി പോയി. 200 പേർ പുതുതായി വന്നു. എങ്കിൽ ഈ വർഷം സ്കൂളിൽ എത്ര കുട്ടികൾ ?


പൂമല സ്കൂളിൽ കഴിഞ്ഞവർഷം എത്ര കുട്ടികൾ?

സ്കൂളിൽ നിന്നും പഠനം പൂർത്തിയാക്കി പോയവർ എത്ര?

$$1500 - 100 =$$

—
 സ്കൂളിൽ നിന്നും പഠനം പൂർത്തിയാക്കി പോയവർ ?

$$1400 + 200 =$$



ജില്ലയുടെ പേര് : തിരുവനന്തപുരം
 ബി.ആർ.സിയുടെ പേര് : യുആർസി സൗത്ത്

സ്റ്റാൻഡേർഡ്	: 4
വിഷയം	: ഗണിതം
യൂണിറ്റ്	: 4
പാഠം	: കുടുംബവും കുറവും
വർക്ക് ഷീറ്റ് നമ്പർ	: 12

വൈറ്റ് ബോർഡ് ഷീറ്റ്


തുടർച്ച

കോളം കളർ ചെയ്യൂ.

താഴെ കൊടുത്തിരിക്കുന്ന ക്രിയകളുടെ ഉത്തരങ്ങൾ വരുന്ന കോളം കളർ ചെയ്യൂ.

1. $86 - 40 = \dots\dots\dots$
2. $96 - 33 = \dots\dots\dots$
3. $58 - 39 = \dots\dots\dots$
4. $124 - 111 = \dots\dots\dots$
5. $260 - 110 = \dots\dots\dots$

13		63
	100	
46		150



ജില്ലയുടെ പേര് : തിരുവനന്തപുരം
 ബി.ആർ.സിയുടെ പേര് : യുആർസി സൗത്ത്


സ്റ്റാൻഡേർഡ് : 4
 വിഷയം : ഗണിതം
 യൂണിറ്റ് : 4
 പാഠം : കൂടുതലും കുറവും
 വർക്ക് ഷീറ്റ് നമ്പർ : 13

വൈറ്റ് ബോർഡ് ഷീറ്റ്

തുടർച്ച

ചേർത്തുവയ്ക്കാം..

ചിത്രത്തിലെ കൂട്ടുകാർക്ക് അവരുടെ വീടുകളിലെത്തുന്നു. ഓരോ കുട്ടിയുടെയും കാർഡുകളിലെ ക്രിയ ചെയ്താൽ വീട് കണ്ടെത്താം?



ജില്ലയുടെ പേര് : തിരുവനന്തപുരം
ബി.ആർ.സിയുടെ പേര് : യുആർസി സൗത്ത്

സ്റ്റാൻഡേർഡ്	: 4
വിഷയം	: ഗണിതം
യൂണിറ്റ്	: 4
പാഠം	: കൂടുതലും കുറവും
വർക്ക് ഷീറ്റ് നമ്പർ	: 14

വൈറ്റ് ബോർഡ് ഷീറ്റ്

തുടർച്ച

ബാക്കി കണ്ടെത്തൂ...

ഉണ്ണിക്കുട്ടന് 20 ആപ്പിൾ കിട്ടി. 4 കുട്ടുകാർക്ക് 5 എണ്ണം വീതം നൽകി. എങ്ങനെ കൊടുത്തു എന്ന് നോക്കാം.

ഒന്നാമൻ	രണ്ടാമൻ	മൂന്നാമൻ	നാലാമൻ
$\begin{array}{r} \text{കൊടുത്തത്} - 5 \\ \text{ആകെ} - 20 \\ \text{ബാക്കി} = 20 - \\ \quad 5 \\ \hline 15 \end{array}$	$\begin{array}{r} \text{കൊടുത്തത്} - 5 \\ \text{ആകെ} - 15 \\ \text{ബാക്കി} = 15 - \\ \quad 5 \\ \hline 10 \end{array}$		
$\text{00000000000000000000} \\ = 15$	$\text{00000000000000000000} \\ = 10$		

ബാക്കി കണ്ടെത്തൂ..



ജില്ലയുടെ പേര് : തിരുവനന്തപുരം
 ബി.ആർ.സിയുടെ പേര് : യുആർസി സൗത്ത്


സ്റ്റാൻഡേർഡ്	: 4
വിഷയം	: ഗണിതം
യൂണിറ്റ്	: 4
പാഠം	: കൂടുതലും കുറവും
വർക്ക് ഷീറ്റ് നമ്പർ	: 15

വൈറ്റ് ബോർഡ് ഷീറ്റ്

തുടർച്ച

മാതൃകപോലെ എഴുതുക

1. 2005 - 2 ആയിരം + 0 നൂറ് + 0 പത്ത് + 5 ഒന്നുകൾ
2. 1976 - ആയിരങ്ങൾ + നൂറ് + പത്ത് + ഒന്നുകൾ
3. 2021 - ആയിരങ്ങൾ + നൂറ് + പത്ത് + ഒന്നുകൾ
4. 45 - പത്ത് + ഒന്നുകൾ
5. 16 - പത്ത് + ഒന്നുകൾ
6. 26 - പത്ത് + ഒന്നുകൾ



ജില്ലയുടെ പേര് : തിരുവനന്തപുരം
 ബി.ആർ.സിയുടെ പേര് : യുആർസി സൗത്ത്

സ്റ്റാൻഡേർഡ്	: 4
വിഷയം	: ഗണിതം
യൂണിറ്റ്	: 4
പാഠം	: കൂടുതലും കുറവും
വർക്ക് ഷീറ്റ് നമ്പർ	: 16

വൈറ്റ് ബോർഡ് ഷീറ്റ്

തുടർച്ച

യോജിച്ചത് ചേർത്തു വരയ്ക്കുക

40+5	29
20+9	16
10+6	45
10+10+10+10	5
10+10+10	40
1+1+1+1+1	5



ജില്ലയുടെ പേര് : തിരുവനന്തപുരം
 ബി.ആർ.സിയുടെ പേര് : യുആർസി സൗത്ത്


സ്റ്റാൻഡേർഡ്	: 4
വിഷയം	: ഗണിതം
യൂണിറ്റ്	: 4
പാഠം	: കൂടുതലും കുറവും
വർക്ക് ഷീറ്റ് നമ്പർ	: 17

വൈറ്റ് ബോർഡ് ഷീറ്റ്

തുടർച്ച

എണ്ണത്തിനനുസരിച്ച് വട്ടം വരയ്ക്കുക

12	
5	
6	
6	



ജില്ലയുടെ പേര് : തിരുവനന്തപുരം
ബി.ആർ.സിയുടെ പേര് : യുആർസി സൗത്ത്


സ്റ്റാൻഡേർഡ്	: 4
വിഷയം	: ഗണിതം
യൂണിറ്റ്	: 4
പാഠം	: കൂടുതലും കുറവും
വർക്ക് ഷീറ്റ് നമ്പർ	: 18

വൈറ്റ് ബോർഡ് ഷീറ്റ്

തുടർച്ച

മാതൃകപോലെ എഴുതുക.

ഉദാ :	$45 = 4 \times 10 + 5 \times 1$
	$16 = \dots \times 10 + \dots \times 1$
	$29 = \dots \times 10 + \dots \times 1$
ഉദാ :	$2021 = 2 \times 1000 + 0 \times 100 + 2 \times 10 + 1 \times 1$
	$2005 = \dots \times 1000 + \dots \times 100 + \dots \times 10 + \dots \times 1$
	$1976 = \dots \times 1000 + \dots \times 100 + \dots \times 10 + \dots \times 1$




ജില്ലയുടെ പേര് : തിരുവനന്തപുരം
 ബി.ആർ.സിയുടെ പേര് : യുആർസി സൗത്ത്

സ്റ്റാൻഡേർഡ്	: 4
വിഷയം	: ഗണിതം
യൂണിറ്റ്	: 4
പാഠം	: കൂടുതലും കുറവും
വർക്ക് ഷീറ്റ് നമ്പർ	: 19


വൈറ്റ് ബോർഡ് ഷീറ്റ്

തുടർച്ച

കുളക്കരയിൽ വരിവരിയായി വിടർന്നുനിൽക്കുന്ന പൂക്കൾ എത്രയെന്ന് എണ്ണി നോക്കൂ. താഴെ നൽകിയിരിക്കുന്ന ചോദ്യങ്ങൾക്ക് ഉത്തരമെഴുതുക .



- ഒരു വരിയിൽ എത്ര പൂക്കൾ ?
- ആകെ എത്ര വരികൾ ?
- നീല പൂക്കൾ എത്ര ?
- ആകെ പൂക്കൾ എത്ര ?



ജില്ലയുടെ പേര് : തിരുവനന്തപുരം
 ബി.ആർ.സിയുടെ പേര് : യുആർസി സൗത്ത്

സ്റ്റാൻഡേർഡ്	: 4
വിഷയം	: ഗണിതം
യൂണിറ്റ്	: 4
പാഠം	: കൂടുതലും കുറവും
വർക്ക് ഷീറ്റ് നമ്പർ	: 20

വൈറ്റ് ബോർഡ് ഷീറ്റ്

അവസാനം

വർക്ക്ഷീറ്റ് 6

കൂട്ടകളായി നിരത്തിയിരിക്കുന്ന പൂക്കുടകൾ കണ്ടില്ലേ. ഓരോ കൂട്ടത്തിലും തൊട്ടു മൂന്നിലും പിന്നിലും ഉള്ള സംഖ്യകൾ എഴുതുക.
